


ESTADO DO MARANHÃO  
PREFEITURA MUNICIPAL DE GOVERNADOR EDISON LOBÃO - MA  
CONCURSO PÚBLICO PARA PROVIMENTO DE CARGOS



**CARGO:**

**FISIOTERAPEUTA**

**TURNO: MANHÃ**



**CADERNO DE PROVA OBJETIVA**

**LEIA COM ATENÇÃO AS INSTRUÇÕES ABAIXO**

- 01** – Examine se a prova está completa, se há falhas ou imperfeições gráficas que causem dúvidas. Qualquer reclamação somente será aceita até os 15 minutos iniciais.
- 02** – A prova consistirá de 40 questões com quatro alternativas (A, B, C, D) das quais apenas uma é verdadeira. Leia atentamente cada questão e escolha a alternativa, marcando sua resposta no cartão resposta, cobrindo levemente todo o espaço correspondente à letra a ser assinalada.
- 03** – Durante a prova, é vedado o intercâmbio e o empréstimo de qualquer material entre os candidatos.
- 04** – Não poderão ser utilizados, durante a prova, recursos como: régua, dicionário, boné, calculadora, relógio digital, bem como outro material que possa indicar tentativa de fraude.
- 05** – Esta prova terá duração de 4 horas, com início às 09h e término às 13h.



**INFORMAÇÕES ADICIONAIS**

SITE:  
[WWW.INSTITUTOMACHADODEASSIS.COM.BR](http://WWW.INSTITUTOMACHADODEASSIS.COM.BR)

Telefone:  
(86) 9438-4081

E-mail:  
Ima.edisonlobao2014@outlook.com

\_\_\_\_\_  
NOME DO CANDIDATO(A)

INSTITUTO MACHADO DE ASSIS - IMA

CONCURSO PÚBLICO DA PREFEITURA MUNICIPAL DE GOVERNADOR EDISON LOBÃO - MA

**RASCUNHO**

01	02	03	04	05	06	07	08	09	10	11	12	13	14	15	16	17	18	19	20
21	22	23	24	25	26	27	28	29	30	31	32	33	34	35	36	37	38	39	40

FOLHA DE ANOTAÇÃO DO GABARITO - ATENÇÃO: Esta parte somente deverá ser destacada pelo fiscal da sala, após o término da prova.



## LINGUA PORTUGUESA – QUESTÕES DE 01 A 10

- 01) Sobre os aspectos gerais da linguagem, julgue cada item verdadeiro (V) ou falso (F) e marque a alternativa correta.
- I. Ser eminentemente social, o homem precisa, para (sobre)viver, comunicar-se com seus semelhantes. Para isso ele tem um dom de natureza inato: a faculdade de (re)criar e manipular sistemas de comunicação. Essa faculdade criativa é a linguagem.
- II. Nem toda comunicação se realiza por meio de um sistema de sinais convencionado. Nem sempre é preciso haver um código para que seja possível entender uma mensagem.
- III. A utilização da língua sempre dependerá do contexto em que se insere. Tanto a língua falada quanto a escrita são utilizadas em diversos níveis: padrão, coloquial, regional, técnico.
- IV. Linguagem designa também todo sistema de signos (palavras, sinais, sons, símbolos, imagens, gestos) utilizado socialmente para estabelecer comunicação, a qual pode ser apreendida por qualquer dos órgãos dos sentidos.
- (A) V, V, V, V  
(B) V, F, V, V  
(C) F, V, F, F  
(D) V, V, F, F
- 02) Assinale a opção que contém uma oração coordenada sindética explicativa:
- (A) Chorava muito, logo estava detestando toda aquela situação.  
(B) Eu canto porque o instante existe.  
(C) Venha logo, pois tenho pressa.  
(D) Sua dor era tamanha que gritava desesperadamente.
- 03) **Desde que chegou**, o rapaz só pediu um copo d'água. A oração em destaque é classificada como:
- (A) Quase sorria, logo estava apreciando a cena.  
(B) Eu canto porque o instante existe.  
(C) Saia logo, que eu preciso de você.  
(D) Sua fome era tanta que comeu com casca e tudo.
- 04) Marque a alternativa incorreta quanto à concordância:
- (A) Dava duas horas e nós caíamos na rua. (Rubem Braga)  
(B) Faz cem anos já que se apagaram seus olhos. (Ferreira Gullar)  
(C) Mas havia jardins, havia manhãs naquele tempo! (Carlos Drummond de Andrade)  
(D) O desejo dela são uns panos chamativos, lá da lojinha. (José J. Veiga)
- 05) Assinale a opção que preenche a lacuna corretamente com a palavra entre parênteses.
- (A) A passeata tinha \_\_\_\_\_ gente que a do ano passado. (menas)  
(B) Ela \_\_\_\_\_ resolveu acabar com o casamento. (mesmo)  
(C) Marcamos o encontro exatamente ao meio-dia e \_\_\_\_\_. (meia)  
(D) Os desenhos das cédulas seguem \_\_\_\_\_ nesta quinzena. (anexas)
- 06) Qual figura de linguagem a seguir não é uma figura sonora?
- (A) onomatopeia  
(B) aliteração  
(C) assonância  
(D) anáfora
- 07) Indique a opção em que há a incorreta relação de significado dos prefixos adotados nas palavras:
- (A) decompor/decair/decrecer - ideia de negação ou privação  
(B) perpassar/ percorrer/ perfurar - ideia de movimento através  
(C) posfácio/pospor/pós-graduação - ideia de posição posterior  
(D) premeditar/ predispor - ideia de anterioridade.
- 08) assinale a alternativa em que as palavras são rizotônicas:
- (A) estudo  
(B) deixarei  
(C) estudei  
(D) venderia



09) Marque a opção que traz a classificação correta dos sujeitos das frases abaixo, respectivamente:

“Estão pedido sua presença”  
 “Vive-se melhor fora das grandes capitais”  
 “Há meses que não vejo sua prima”

- (A) Indeterminado, determinado simples, inexistente.  
 (B) Inexistente, indeterminado, inexistente.  
 (C) Indeterminado, indeterminado, inexistente.  
 (D) Determinado simples, inexistente, indeterminado.

10) Aponte a opção em que o termo destacado é um objeto direto pleonástico:

- (A) Aos filhos, dá-lhes o melhor de si.  
 (B) Suas músicas, ouço-as sempre com emoção.  
 (C) Cumpri com a minha palavra.  
 (D) O novo horário incomoda a mim.

### CONHECIMENTOS GERAIS – QUESTÕES DE 11 A 20

11) “Um ano depois de vencer o prazo para a conclusão das obras de transposição do Rio São Francisco, apenas metade do projeto está pronto. Com o atraso, muitos municípios ainda aguardam pelo acesso à água.”  
 Notícia veiculada no site G1.globo.com

Sobre a transposição do Rio São Francisco, marque a opção INCORRETA:

- (A) 5% da superfície do semiárido será atendida pela transposição do rio São Francisco.  
 (B) O projeto contará com construções de barragens e usinas termoelétricas.  
 (C) O projeto consiste na construção de dois canais para levar uma pequena parte da água do rio para o interior dos estados do Ceará, Pernambuco e Rio Grande do Norte.  
 (D) Espera-se com a transposição do São Francisco abastecer a população do sertão e criar polos de agricultura.

12) “A **exportação** de minério de ferro do Brasil em outubro somou 32,51 milhões de toneladas, o maior volume mensal do ano, mas ainda assim ficou ligeiramente abaixo do total exportado no mesmo mês do ano passado, de acordo com dados da Secretaria de Comércio Exterior (Secex) divulgados nesta sexta-feira.”  
 Notícia veiculada no site: exame.abril.com.br

O Brasil é o segundo maior produtor de minério de ferro, conforme o U.S. Geological Survey e a UNCTAD - Conferência das Nações Unidas para o Comércio e o Desenvolvimento (2011). O alto teor de ferro do minério encontrado no país nos coloca em posição destacada no mercado mundial. Por isso, o minério de ferro está entre os cinco principais itens exportados pelo Brasil.

Os estados brasileiros que possuem as maiores e principais reservas de minério de ferro são:

- (A) Minas Gerais e Pará.  
 (B) Maranhão e São Paulo.  
 (C) Piauí e Amazônia.  
 (D) Pernambuco e Mato Grosso.

13) Desde o ano de 2013, o nome de Edward Snowden tem circulado na mídia internacional. Quem é Edward Snowden?

- (A) Um grande inventor do setor de informática, co-fundador da Apple e responsável por revolucionar a telefonia e computadores pessoais através dos *smartphones* e *tablets* que faleceu no ano passado.  
 (B) Ex-analista da inteligência americana que tornou públicos detalhes de várias programas altamente confidenciais de vigilância eletrônica dos governos de Estados Unidos e Reino Unido.  
 (C) Presidente francês que teve seu caso extraconjugal com atriz exposto na revista francesa “Closer”.  
 (D) Vencedor do prêmio Nobel de Medicina 2013 pelo trabalho sobre como os hormônios são transportados através das células, o que representou um avanço no conhecimento sobre doenças como a diabetes e Alzheimer.

14) Sobre a produção agrícola, no cenário mundial, escolha a alternativa INCORRETA:

- (A) A evolução da capacidade de produção, nos últimos 50 anos, foi em média superior ao crescimento da população mundial.  
 (B) Os investimentos e o controle da produção agrícola por grandes empresas disseminou a utilização de produtos apropriados à correção do solo, de adubos químicos, de agrotóxicos, de rações, de sementes geneticamente modificadas, etc.  
 (C) O Brasil em seu imenso território, coloca-se entre os dez maiores exportadores agrícolas mundiais, desenvolve uma agricultura moderna e de elevada competitividade e possui o maior rebanho bovino comercial do mundo.



- (D) A partir do início deste século, os países desenvolvidos criaram uma estratégia de elevação da produção agrícola mundial por meio da introdução de técnicas mais apropriadas de cultivo, mecanização, uso de fertilizantes, defensivos agrícolas e a utilização de sementes VAR (Variedades de Alto Rendimento) em substituição às sementes tradicionais, menos resistentes aos defensivos agrícolas.
- 15) A nanotecnologia é a engenharia de materiais em escala de átomos e moléculas. A partir do momento que os cientistas conseguiram manipular átomos e moléculas para produzir objetos funcionais em escala nanométrica, um leque de possibilidades tecnológicas surgiu em vários campos do conhecimento humano.

Sobre a nanotecnologia identifique a alternativa INCORRETA:

- (A) Apesar dos avanços a nanotecnologia ainda não movimentou grandes somas de dinheiro. A estimativa é de que, até 2015, o mercado global para produtos e processos baseados em nanotecnologia não terá passado de US\$ 1 bilhão.
- (B) Em termos de produtos desenvolvidos com nanotecnologia, já temos a língua eletrônica, um sensor para líquidos capaz de identificar os diferentes tipos de sabor, inclusive os semelhantes, tais como água mineral.
- (C) Em 2001, na Europa, foi lançado um vidro autolimpante que, a partir da aplicação de uma película de material ativo, reage com a água, eliminando a sujeira quando, por exemplo, o vidro toma chuva.
- (D) No setor têxtil já se desenvolveu um tecido com fibras recobertas de nanomaterial de prata, que dá ao tecido propriedades antimicrobiana, antiodor e termorreguladora, além de uma secagem rápida.
- 16) Acossado pelo escândalo dos grampos em telefones e e-mails de milhões de pessoas, o presidente atual dos Estados Unidos, Barack Obama, ficou na defensiva a respeito da atitude do governo feita supostamente em nome do combate ao terrorismo. Obama procurou ressaltar que o governo não tem acesso ao conteúdo das gravações. "Ninguém está ouvindo as ligações", defendeu-se. Fazer escuta telefônica, monitorar SMS, torpedos, mensagens de texto e e-mail etc., salvo com autorização judicial, constitui crime de:
- (A) Calúnia.  
(B) Difamação.  
(C) Apropriação indébita.  
(D) Invasão de privacidade.
- 17) Um grupo de cinco países vem-se destacando no cenário mundial contemporâneo como países em desenvolvimento. Trata-se de nações com economias emergentes de características semelhantes, conhecidos pelo acrônimo BRICS, cunhado pelo economista Jim O'Neill. Além da Índia, da Rússia, da África do Sul e do Brasil, compõe esse grupo
- (A) China.  
(B) Coreia do Norte.  
(C) Cuba.  
(D) Canadá.
- 18) No Brasil, somente em janeiro de 2014, foram vendidos cerca de 312,6 mil veículos, incluindo ônibus e caminhões, mas nos meses seguintes houve uma desaceleração, fazendo com que as vendas diárias na primeira quinzena de fevereiro apresentassem queda de 25% em relação ao mês anterior e 18% em comparação ao mesmo período em 2013, podendo estes números interferir negativamente no PIB brasileiro. Para os economistas, tal comportamento dos consumidores em janeiro de 2014 atribui-se:
- (A) Ao recebimento do 13º e 14º salários de alguns segmentos profissionais que antes representavam uma parcela menor no consumo deste produto.  
(B) Ao aumento do Imposto sobre Produtos Industrializados (IPI) no início de janeiro, levando os consumidores a adquirirem os últimos veículos com incentivo tributário.  
(C) A diminuição do valor das parcelas através de prazos mais elásticos, associado aos recursos financeiros nesta época do ano.  
(D) A isenção ou diminuição significativa da entrada, associada à desburocratização das pesquisas referentes às restrições de crédito.



- 19) Depois de decorridos 126 anos da edição da Lei Áurea que aboliu a escravatura no Brasil, episódios tais como: uma cliente que se recusa a ser atendida por uma funcionária negra; um goleiro é chamado de "macaco" pela torcida adversária; um homem negro que entra em uma loja e é seguido pela segurança ou uma menina que tem o cabelo afro chamado de "cabelo ruim", denotam, segundo a ONU, que no Brasil o racismo é "estrutural e institucional" e que viveria em uma "falsa democracia racial".

Em se tratando de racismo no Brasil, julgue as afirmações a seguir:

- I. Os negros representam 50,7% da população brasileira.
- II. A população negra tem 1,6 ano de estudo a menos que a branca.
- III. 65,1% das vítimas de homicídios são negras.
- IV. Na população negra a taxa de mortalidade infantil é 60% maior que a da população branca.

É correto o que se afirma apenas em:

- (A) I.
- (B) I, II.
- (C) I, II, III.
- (D) I, III, IV.

- 20) Entrou para a história como o primeiro brasileiro a ter pena de morte executada no exterior Marco Archer Cardoso Moreira, condenado à morte há 10 anos por tráfico de drogas, teve esgotados todos os recursos jurídicos e diplomáticos, sendo morto por um pelotão de fuzilamento. O país onde este episódio aconteceu foi:

- (A) Cingapura.
- (B) Polinésia.
- (C) Indonésia.
- (D) Afeganistão.

## CONHECIMENTOS ESPECÍFICOS DA ÁREA

### QUESTÕES DE 21 A 40

- 21) Paciente com sequelas de AVE apresenta fala hesitante, lenta, com pausas inadequadas e sílabas alongadas. A qualidade melódica da fala é distorcida, o paciente demonstra que é capaz de escolher as palavras apropriadas e seguir as regras gramaticais, conclui-se que o paciente apresenta a seguinte disfunção cerebelar:

- (A) Discalculia.
- (B) Dislalia.
- (C) Disartria.
- (D) Disfagia.

- 22) Ao atender vítima de queimadura no pronto Socorro do Hospital do Município pôde-se constatar que todo o membro inferior direito e esquerdo estavam queimados, como também, a região do períneo. Ao se utilizar a regra dos nove qual é a porcentagem de área corporal lesionada desse paciente?

- (A) 9%
- (B) 18%
- (C) 19%
- (D) 37%

- 23) Ao mal funcionamento do coração com incapacidade para bombear sangue suficiente para satisfazer as necessidades do corpo dar-se o nome de insuficiência cardíaca congestiva. Sobre a ICC é incorreto afirmar:

- (A) Cianose no leito das unhas é um sinal bem comum em insuficientes congestivos a esquerda.
- (B) O edema pulmonar acontece inicialmente na insuficiência congestiva a esquerda.
- (C) Ingurgitação das jugulares é bem comum em pacientes com insuficiência congestiva a direita.
- (D) Dispneia paroxística noturna é compatível com quadro de insuficiência congestiva esquerda.

- 24) Nos últimos 20 anos a fisioterapia intensiva vem crescendo em número de especialistas e pela evolução explosiva da ciência como atualização constante no tratamento de pacientes críticos. Analise as alternativas e marque a correta:



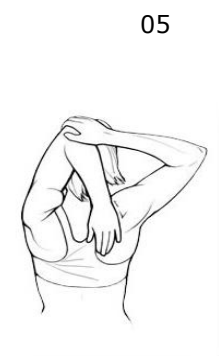
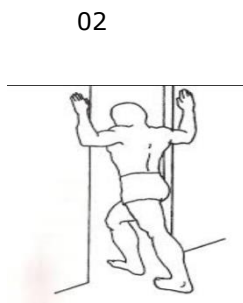
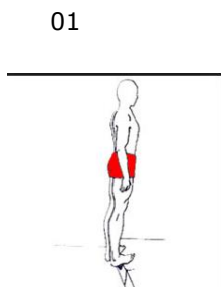
- (A) Os pacientes com lesão pulmonar aguda (LPA) caracterizam-se com severa alteração de oxigenação, redução da complacência e infiltrado bilateral pulmonar.
- (B) As formas mais comuns de choque são: hipovolêmico, cardiogênico, séptico, e restritivo.
- (C) O suporte ventilatório não pode ser instituído de forma não invasiva em pacientes com DPOC.
- (D) O suporte básico de vida é definido por manobras contidas no protocolo ABCD primário: desobstrução, ventilação, massagem cardíaca, desfibrilação interna automática.
- 25) Músculo da mastigação que apresenta o feixe anterior com origem na borda inferior interna da mandíbula e o posterior na mastoide, tendo a ação de levantar o osso hioide e auxiliar o pterigóide lateral na abertura da boca:
- (A) Masseter.
- (B) Digástrico.
- (C) Temporal.
- (D) Pterigóideo lateral.
- 26) A avaliação da função pulmonar e o conhecimento dos valores normativos pulmonares são necessários para se traçar um plano de tratamento conforme as características clínicas e fisiopatológicas do paciente. Sobre a função pulmonar, é correto afirmar:
- (A) A principal função do sistema respiratório é a hematose eliminando monóxido de carbono resultante do metabolismo celular.
- (B) A curva fluxo/volume dos indivíduos com insuficiência pulmonar ventilatória restritiva apresenta fluxos altos.
- (C) O espaço morto fisiológico inclui o espaço morto anatômico e mais o volume de gás que ventila os alvéolos mal perfundidos ou bem perfundidos com sangue.
- (D) A plestimografia é o método que mede com precisão o volume torácico gasoso.
- 27) De acordo com o desenvolvimento motor normal infantil, assinale a alternativa em que a associação se faz de maneira correta:
- (A) Dissociação tronco e membros – 1 mês.
- (B) Apoio vertical – 8 meses.
- (C) Oponibilidade 7-8 meses.
- (D) Em decúbito ventral apoiar-se nos antebraços – 5 meses.
- 28) A paralisia facial decorre do comprometimento do nervo facial prejudicando os movimentos dos músculos da expressão facial, ocasionando diminuição ou paralisia dos movimentos faciais impactando na vida social do paciente. Sobre a paralisia facial julgue os sintomas abaixo, marcando V para Verdadeiro e F para falso:
- ( ) Dormência e fraqueza nos músculos faciais.
- ( ) Sensação de pressão e inchaço do lado afetado.
- ( ) Intolerância a sons fortes.
- ( ) Dor ao redor da orelha.
- (A) V, V, V, V.
- (B) V, F, F, V.
- (C) V, V, V, F.
- (D) V, V, F, V.
- 29) O desenvolvimento do edema pulmonar intersticial ou alveolar é o resultado de um desequilíbrio entre a pressão oncótica do sangue, a permeabilidade da parede, a pressão capilar pulmonar e a capacidade dos canais linfáticos em remover o fluido que fica no interstício. Considerando uma alteração na permeabilidade do epitélio alveolar ou do endotélio, são causas de Edema Pulmonar, exceto.
- (A) Pneumonia bacteriana ou viral.
- (B) Agentes tóxicos inalantes, como fogsênio, ozona, óxidos de nitrogênio.
- (C) Afogamento
- (D) Bloqueio de Ramo Direito Cardíaco.
- 30) Didaticamente, o Sistema Nervoso é dividido entre Central e Periférico. Essa divisão é baseada na topografia e função de cada um desses subsistemas. Quanto ao Sistema Nervoso Central assinale a alternativa incorreta:
- (A) É constituído pelo encéfalo e medula espinhal.
- (B) A medula espinhal não preenche totalmente o canal vertebral, encerrando-se ao nível da terceira vértebra lombar.
- (C) O encéfalo é constituído pelos hemisférios cerebrais, cerebelo, mesencéfalo, ponte e bulbo.
- (D) O mesencéfalo, ponte e bulbo constituem a porção segmentar.



- 31) A disfunção têmporo-mandibular é tida como um subgrupo de disfunções musculoesqueléticas, sendo a principal causa de dor na região orofacial. Não relacionada a dentição. São fatores que contribuem DTM exceto:
- (A) Psicológicos  
(B) Traumas  
(C) Condição socioeconômica  
(D) Sobrecargas das funções
- 32) A paralisia facial periférica limita a integração do ser humano com seu próximo e com o meio social, devido à privação dos movimentos faciais. Sobre a paralisia facial periférica é correto afirmar:
- (A) O diagnóstico etiológico irrelevante para o tratamento e prognóstico da doença.  
(B) A mímica facial, com a precisão dos movimentos faciais, é desempenhada pelos nervos: facial e trigêmeo.  
(C) É de responsabilidade do nervo facial a integração do SNC com a musculatura da face.  
(D) O hemograma é dispensável na avaliação da paralisia facial periférica
- 33) Amamentar é muito mais do que simplesmente deixar o bebê satisfeito. Os benefícios ao bebê e a mãe são inúmeros. No período da amamentação, algumas alterações podem ocorrer com as mamas, a fissura mamilar, por exemplo, que tem como sua principal causa a(o):
- (A) Primiparidade.  
(B) Técnica incorreta da pega das mamas.  
(C) Mamada prolongada e contínua.  
(D) Uso de medicamentos tópicos à base de corticoides.
- 34) A Esclerose Lateral Amiotrófica (ELA) é uma doença de etiologia desconhecida na qual existe uma perda dos neurônios motores nos cornos anteriores da medula espinhal e os núcleos motores da parte inferior do tronco cerebral. Sobre a doença, é correto afirmar:
- (A) os principais sintomas são fadiga, fraqueza muscular progressiva, câimbras, contraturas e incoordenação.  
(B) A função intelectual é comprometida com a progressão da doença.  
(C) A eletromiografia é o exame específico para o diagnóstico da doença.  
(D) Em geral, o paciente não apresenta disfunção respiratória.
- 35) Jovem de 19 anos é admitido no hospital de urgência da cidade, vítima de traumatismo crânio encefálico. Ao avaliar o nível de consciência desse paciente obtém as seguintes respostas: abertura ocular ao estímulo doloroso, nenhuma resposta verbal aos estímulos, e movimento de retirada ao estímulo doloroso. Utilizando a escala de coma de Glasgow para essa avaliação, o somatório final é de:
- (A) 9  
(B) 7  
(C) 6  
(D) 8
- 36) A ressuscitação Cardiopulmonar de alta qualidade inclui, EXCETO:
- (A) Profundidade de compressões mínima de 4 cm em adultos.  
(B) Retorno total do tórax após cada compressão.  
(C) Minimizar as interrupções nas compressões torácicas.  
(D) Evitar excesso de ventilação.
- 37) O câncer de mama resulta de uma proliferação incontrolável de células anormais, que surgem em função de alterações genéticas, sejam elas hereditárias ou adquiridas por exposição a fatores ambientais ou fisiológicos. São exemplos de fatores de risco para o câncer de mama:
- (A) Baixo peso e História familiar de câncer.  
(B) Primeira gravidez após os 40 anos e Nuliparidade.  
(C) Terapia de reposição hormonal e Menopausa tardia.  
(D) Idade e Menarca tardia.



38) Marque a alternativa que identifica CORRETAMENTE a musculatura que se pretende alongar nas imagens abaixo:



- (A) 01- Tibial anterior / 02-Peitoral / 03-Quadríceps / 04-Trapézio / 05-Braquiorradial / 06-Panturrilha.  
 (B) 01-Panturrilha / 02-Abdômen / 03-Glúteos / 04-Adutores / 05-Deltóide / 06-Tibial anterior.  
 (C) 01- Lombar / 02- Latíssimo do dorso / 03- Quadríceps 04-Bíceps femural / 05-Deltóide / 06- Glúteos.  
 (D) 01-Panturrilha / 02-Peitoral / 03-Quadríceps / 04-Bíceps femural / 05-Tríceps / 06-Glúteos.

39) No atendimento ao paciente, é necessário estar atento aos sinais e sintomas que este desenvolve. São sinais e sintomas de parada cardíaca, exceto:

- (A) Irregularidade do ritmo do pulso.  
 (B) Queda rápida da pressão arterial.  
 (C) Pupilas isocóricas.  
 (D) Palidez de face.

40) É correta a seguinte afirmativa relativa ao desenvolvimento normal da criança de 1 ano de acordo com os marcos do desenvolvimento atribuídos pelo ministério da saúde.

- (A) Já fica sentado sem apoio.  
 (B) Engatinha ou anda com apoio.  
 (C) Corre e/ou sobe degraus baixos.  
 (D) Diz seu nome e nomeia objetos como seus.